


Recorte as frutas para o trabalho na página 128.



DESTAQUE ESTA PÁGINA

Complete as frases matemáticas, recorte as tiras, junte as que falam sobre a mesma situação e cole-as na tabela da página 127.

$$6 + 6 =$$

$$4 + 4 + 4 =$$

$$2+2+2+2+2+2=$$

$$6 \times 2 =$$

$$3 \times 4 =$$

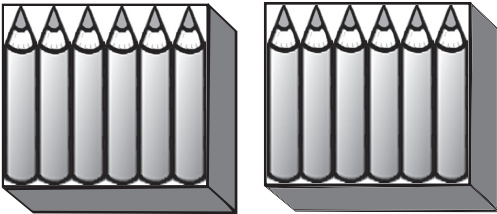

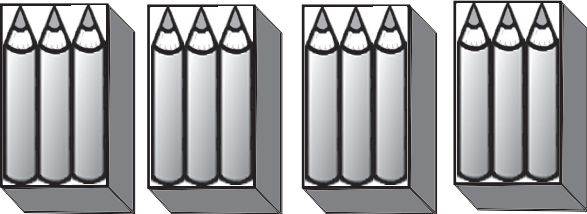

$$3+3+3+3 =$$

$$2 \times 6 =$$

$$4 \times 3 =$$

Descobrimos diferentes maneiras de organizar uma dúzia de lápis.

1) Complete a tabela, colando as frases matemáticas que você recortou:

		FRASES MATEMÁTICAS
A 	AO TODO, lápis	
B 	AO TODO, lápis	
C 	AO TODO, lápis	
D 	AO TODO, lápis	

2) Assinale com **X** a resposta certa ou resposta.

a) Onde têm mais caixas?

A	B	C	D
---	---	---	---

b) Onde têm mais lápis dentro das caixas?

A	B	C	D
---	---	---	---

c) Onde têm mais lápis ao todo?

A	B	C	D
---	---	---	---

d) Quantas dúzias de lápis tem, ao todo, nesta tabela? _____

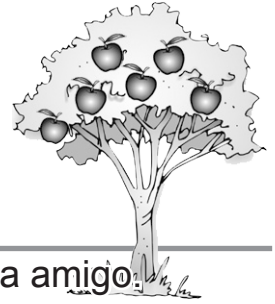
e) Quantos lápis, ao todo, têm nesta tabela? _____

F.M.: _____

CONSTRUINDO A DIVISÃO

Leia, pense e resolva.

Fui até o pomar do sítio do vovô com alguns amigos. Vi uma linda macieira carregadinha de frutas. Colhi 15 maçãs e quero dividi-las, dando 3 maçãs para cada amigo.



1) Quantos amigos irão ganhar 3 maçãs? _____

2) Divida as 15 maçãs que você recortou, colando três para cada amigo.

Desenhe os amigos e cole as maçãs.

3) Responda:

a) Quantas maçãs você tinha, ao todo, para dividir? _____


b) Você dividiu as frutas em grupinhos de quantas maçãs? _____

c) Quantos amigos receberam as frutas? _____

PODEMOS DIZER QUE: quinze divididos em grupos de três é igual a _____.

DIVIDINDO AS FRUTAS

Vamos dividir as frutinhas e ensacá-las para vender?



Ao todo, são 10 maçãs.
Vamos dividi-las colocando
2 maçãs em cada saco.

Enchemos _____ sacos.


$$\text{F.M.: } \underbrace{2+2+2+2+2}_{5 \times} =$$

10 DIVIDIDOS EM GRUPOS DE 2 É IGUAL A CINCO SACOS!

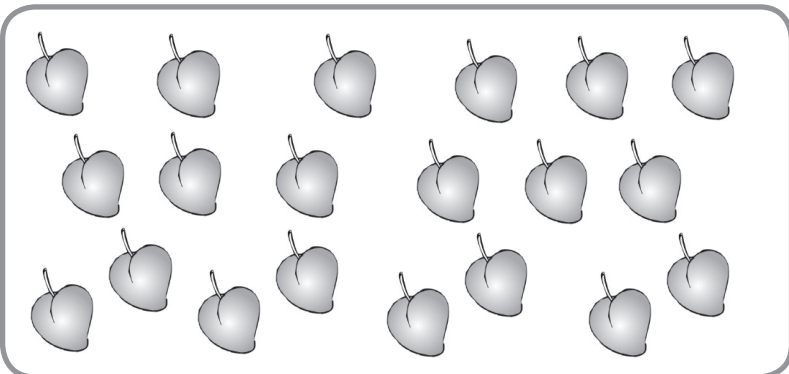
Ao todo são 12 peras. Vamos
dividi-las colocando 3 em cada
saco.

Enchemos _____ sacos.

F.M.: _____



12 DIVIDIDOS EM GRUPOS DE 3 É IGUAL A _____ SACOS!



Ao todo, são 20 pêssegos. Vamos
dividi-los colocando 4 em cada
saco.

Enchemos _____ sacos.

F.M.: _____

_____ DIVIDIDOS EM GRUPOS DE 4 É IGUAL A _____ SACOS!

Ao todo, são 18 laranjas. Vamos
dividi-las colocando 3 em cada
saco.

Enchemos _____ sacos.

F.M.: _____

Desenhe!



18 DIVIDIDOS EM GRUPOS DE _____ É IGUAL A _____ SACOS!