


DIVISÃO COM SIGNIFICADO DE MEDIDA

TENHO 14 FLORES PARA DIVIDIR NOS VASOS. CADA VASO TERÁ 4 FLORES.


QUANTOS VASOS VOU OCUPAR? _____

SOBRARÃO FLORES? QUANTAS? _____

CONTINUE DIVIDINDO AS FLORES E DESENHANDO OS VASOS.



COMPLETE:

QUANTAS FLORES, AO TODO? 	LEI: 1 VASO PARA CADA 4 FLORES	QUANTOS VASOS?
	÷	

RESOLVA

$$14 \overline{) 4} \rightarrow X$$


DIVISÃO COM SIGNIFICADO DE MEDIDA

TENHO 25 FLORES PARA DIVIDIR NOS VASOS. CADA VASO TERÁ 4 FLORES.


QUANTOS VASOS VOU OCUPAR? _____

SOBRARÃO FLORES? QUANTAS? _____

CONTINUE DIVIDINDO AS FLORES E DESENHANDO OS VASOS.



COMPLETE:

QUANTAS FLORES, AO TODO? 	LEI: 1 VASO PARA CADA 4 FLORES	QUANTOS VASOS?
	÷	

RESOLVA

$$25 \overline{) 4} \rightarrow X$$