

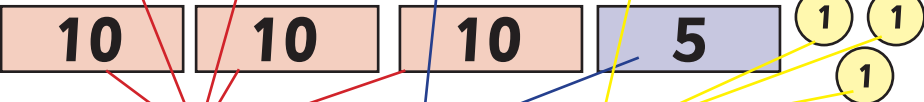







# BRINCADEIRA DE LOJA

QUANTO IREMOS PAGAR NA COMPRA DE DOIS BRINQUEDOS? VAMOS ORGANIZAR E CONTAR O DINHEIRO?

ANALISAR OS BRINQUEDOS E SEUS PREÇOS	REGISTRAR AS CÉDULAS E MOEDAS QUE VOCÊ SEPAROU PARA PAGAR CADA PRODUTO E CALCULAR O TOTAL GASTO NA COMPRA, SEGUINDO O MODELO:
 <p>PREÇO R\$ 26,00</p> <p>PREÇO R\$ 38,00</p>	<p>26 → </p> <p>38 → </p> <p>50 + 10 + 4 = _____</p> <p><b>TOTAL:</b></p> <p>-----</p> <p><b>REAIS</b></p>
 <p>PREÇO R\$ 37,00</p> <p>PREÇO R\$ 17,00</p>	<p>37 →</p> <p>17 →</p> <p><b>TOTAL:</b></p> <p>-----</p> <p><b>REAIS</b></p>
 <p>PREÇO R\$ 35,00</p> <p>PREÇO R\$ 29,00</p>	<p><b>TOTAL:</b></p> <p>-----</p> <p><b>REAIS</b></p>

ANALISAR OS BRINQUEDOS E SEUS PREÇOS	REGISTRAR AS CÉDULAS E MOEDAS QUE VOCÊ SEPAROU PARA PAGAR CADA PRODUTO E CALCULAR O TOTAL GASTO NA COMPRA, SEGUINDO O MODELO DA PÁGINA ANTERIOR:
 <div style="display: flex; justify-content: space-around; margin-top: 10px;"> <div style="border: 1px solid black; border-radius: 50%; padding: 5px; text-align: center;"> <p>PREÇO</p> <p><b>R\$ 28,00</b></p> </div> <div style="border: 1px solid black; border-radius: 50%; padding: 5px; text-align: center;"> <p>PREÇO</p> <p><b>R\$ 19,00</b></p> </div> </div>	<div style="border: 1px solid black; border-radius: 15px; padding: 10px; width: 80px; margin: 0 auto;"> <p><b>TOTAL:</b></p> <p>-----</p> <p><b>REAIS</b></p> </div>
 <div style="display: flex; justify-content: space-around; margin-top: 10px;"> <div style="border: 1px solid black; border-radius: 50%; padding: 5px; text-align: center;"> <p>PREÇO</p> <p><b>R\$ 26,00</b></p> </div> <div style="border: 1px solid black; border-radius: 50%; padding: 5px; text-align: center;"> <p>PREÇO</p> <p><b>R\$ 17,00</b></p> </div> </div>	<div style="border: 1px solid black; border-radius: 15px; padding: 10px; width: 80px; margin: 0 auto;"> <p><b>TOTAL:</b></p> <p>-----</p> <p><b>REAIS</b></p> </div>
	<p>PENSE EM UMA PROPOSTA DIFERENTE PARA COMPRAR DOIS DESSES BRINQUEDOS, QUAIS DELES VOCÊ ESCOLHERIA?</p> <hr style="border: 0.5px solid black;"/> <p>CONSIDERE OS PREÇOS DE CADA UM DOS BRINQUEDOS E CALCULE: QUANTOS REAIS VOCÊ IRIA GASTAR?</p> <div style="border: 1px solid black; border-radius: 15px; padding: 10px; width: 80px; margin: 0 auto;"> <p><b>TOTAL:</b></p> <p>-----</p> <p><b>REAIS</b></p> </div>